

ВОПРОСЫ ДЛЯ 8 КЛАССА

Имя и фамилия

Школа

Учитель географии

1. Эстонская команда едет в Австралию в город Брисбен на олимпиаду. В 7.10 они вылетают из Риги в Вену, куда прибывают в 8.10. Оттуда в 10.30 они вылетают в Сингапур, и летят 11 часов. Из Сингапура они вылетят в 9.30 и приземлятся в Брисбене в 19.30.

- a) Во сколько спортсмены прибудут в Сингапур? _____
- b) Сколько часов длится полет из Сингапура в Брисбен? _____
- c) Сколько часов спортсмены проведут в воздухе? _____
- e) Сколько всего часов длится рейс из Риги в Сингапур? _____ **4 б.**

2. Приведи пример того, как климат влияет на рельеф и как рельеф влияет на климат. **4 б.**

- a) Влияние климата на рельеф: _____

- b) Влияние рельефа на климат: _____

3. Что это за место?

В этом городе солнце бывает в зените 23 сентября. В тот момент, когда солнце находится там в высшей точке своего дневного пути, на Гринвичском меридиане часы показывают 17:14 **3 б.**
(всемирное время).

Это место (город) _____ Государство _____
 В этом городе в этот момент _____ часов Материк: _____
 Координаты этого места: _____ Часть света: _____

4. Заполни таблицу **4 б.**

НАЗВАНИЕ ОСТРОВА	ГОСУДАРСТВО, КОТОРОМУ ПРИНАДЛЕЖИТ ОСТРОВ	КООРДИНАТЫ ЦЕНТРА ОСТРОВА	КЛИМАТИЧЕСКИЙ ПОЯС	ПРИРОДНАЯ ЗОНА
Мэн (Man)				
Ямайка (Jamaica)				

5. Объясни понятие «Океания».

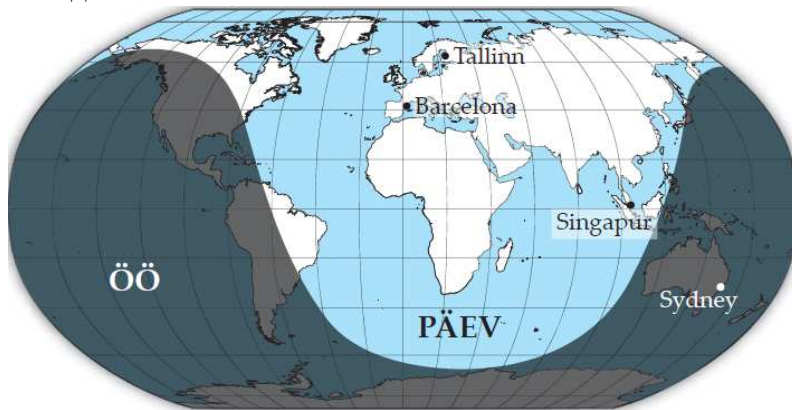
1 б.

Для климата Океании характерны незначительные колебания температуры, как суточные, так и в течение года.

Объясни, почему это так.

2 б.

6. На карте показано распределение дня и ночи. НОЧЬ ДЕНЬ Таллинн Барселона Сингапур Сидней



Подчеркни правильный ответ.

а) Для какого месяца характерна это распределение? 1 б.

март, июнь, сентябрь, декабрь

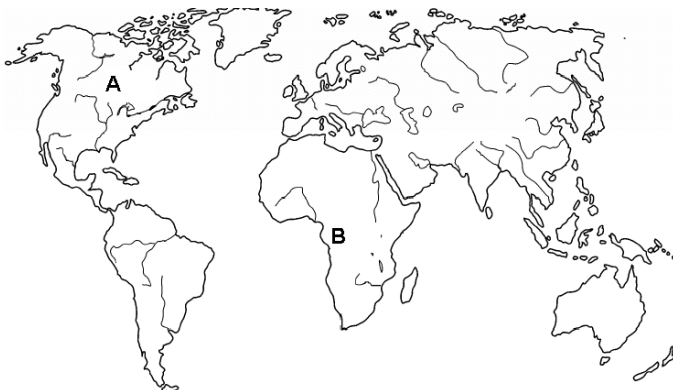
б) Где в это время день длиннее?

1) В Таллинне или Барселоне?

2) В Сингапуре или в Сиднее? 1 б.

7. На карте буквами А и В отмечены две географические области. Что это за области?

Объясни подробнее, чем вызвана их засушливость или переувлажненность.



Высокая влажность в области _____ (напиши соответствующую букву)

1 б.

Засушлива область _____ (напиши соответствующую букву).

Область А это _____

Объяснение _____ 2 б.

Область В это _____

Объяснение _____ 2 б.

8. Подчеркни правильный ответ!

4 б.

1) Какому государству принадлежат Каймановы острова (Cayman Islands)?

Австралия Великобритания США Франция

2) Какое из перечисленных государств член ЕС?

Кипр Норвегия Швейцария Исландия

3) Ни одно место на основной территории Дании не расположено от моря дальше

500 км 50 км 100 км 1000 км

4) Самая западная точка Европейского Союза это
мыс Рокка Гваделупа Москва Ян-Майен

9. Охарактеризуй географическое положение Эстонии.

2 б.

- 1).....
- 2)
- 3).....
- 4)

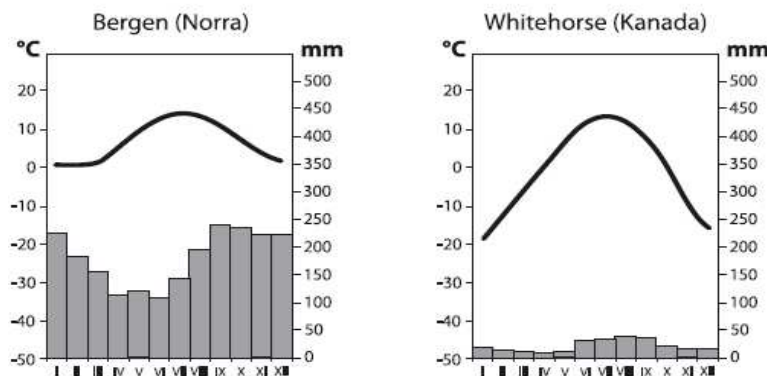
10. Посмотри на карту и ответь на вопросы.
Как изменяется соленость воды в разных частях Балтийского моря?

Почему бухты у Петербурга и Оулу почти пресные?



3 б.

11. Норвежский город Берген (Bergen) и Канадский город Уайтхорс (Whitehorse) расположены почти на одной широте. Берген (Норвегия) Уайтхорс (Канада) мм мм



На основе климатической диаграммы, назови два существенных различия между климатом Бергена и Уайтхорса.

2 б.

- 1).....
- 2).....

Назови две причины климатических различий этих городов.

2 б.

- 1).....
- 2).....

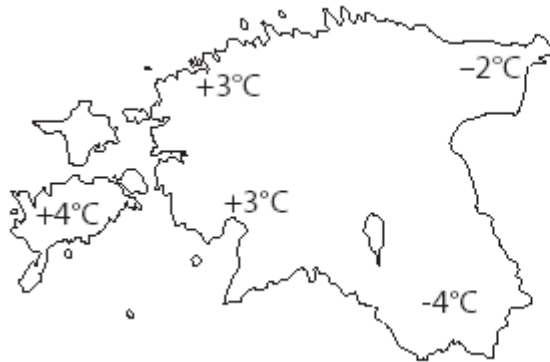
В какой стороне света расположен Уайтхорс, глядя из Бергена? _____

1 б.

12. На карте показаны значения температуры воздуха днем. Для какого времени года типична эта картина: для весны или для осени?

2 p

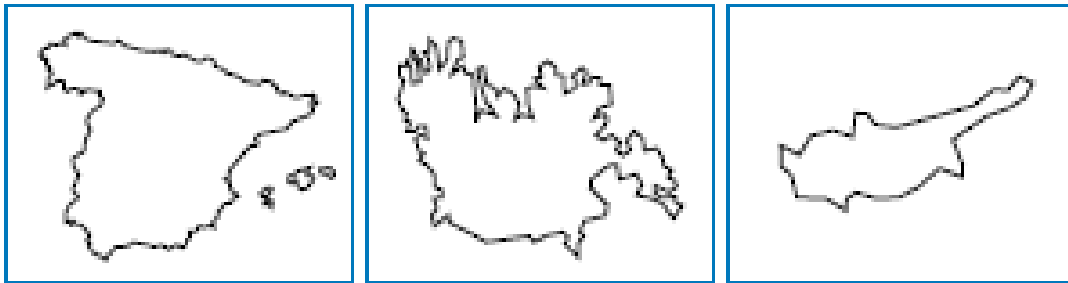
Температуры типичны для _____ Обоснование _____



Kaart iseloomustab ilma _____

Põhjenda vastust: _____

14. На схемах показаны контуры трех европейских государств.



Государства: _____ 1 б.

Характеристики: _____ 3 б.

1) Укажи на каждой схеме направление на север. 1 б.

2) Напиши под каждым контуром полное название страны. 1 б.

Отметь расположение столицы и напиши ее название. 1 б.

3) Распредели перечисленные ниже характеристики между странами, написав соответствующие буквы под их названиями (1 характеристика лишняя!)

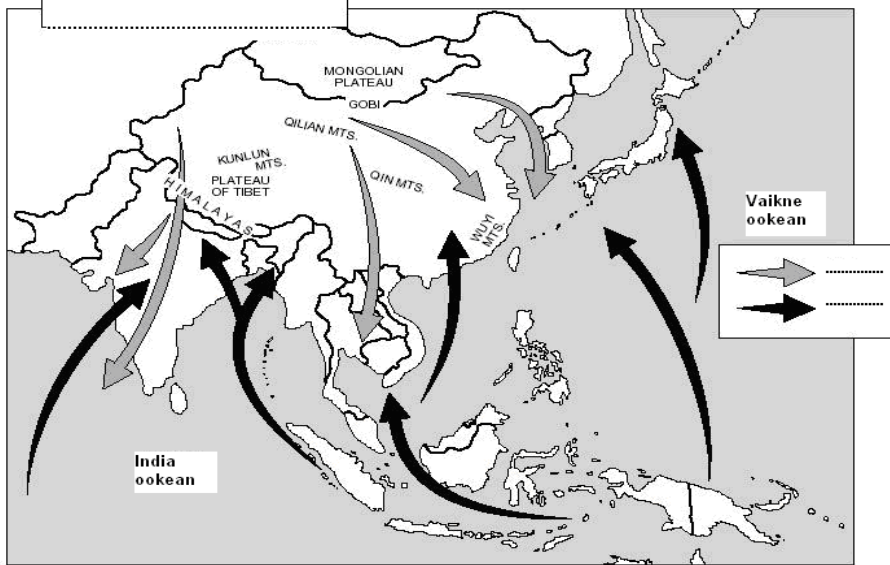
- A Крупнейший в мире производитель апельсинов
- B Член ЕС с 1973 года
- C Примерно 50% родившихся в этой стране людей живет за ее пределами
- D 12 октября государственный праздник (в связи с географическим событием 1492 г.)
- E 81% суши занят сельскохозяйственными угодьями
- F Согласно легенде, здесь самые древние вина (2000 г до н.э.)
- G 70% территории страны покрыто лесами
- H В этой стране зеленый цвет считается счастливым
- I Эта страна в одном часовом поясе с Эстонией
- J 1/3 территории страны оккупирована соседним государством.

13. На карте показана система ветров в Восточной и Юго-Восточной Азии. Напиши наиболее точное название карты, а также названия ветров в легенду.

Индийский океан

Тихий океан

3 б.



ВСЕГО 50 БАЛЛОВ